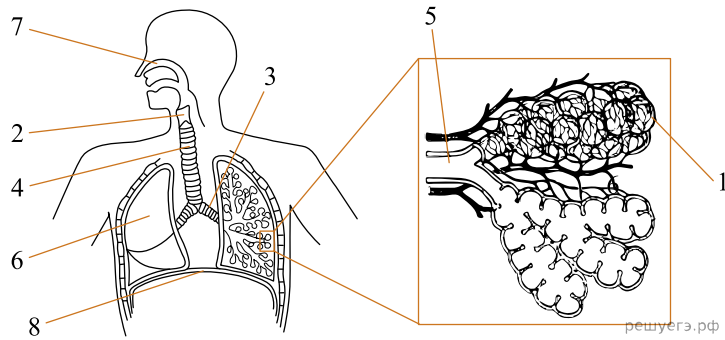
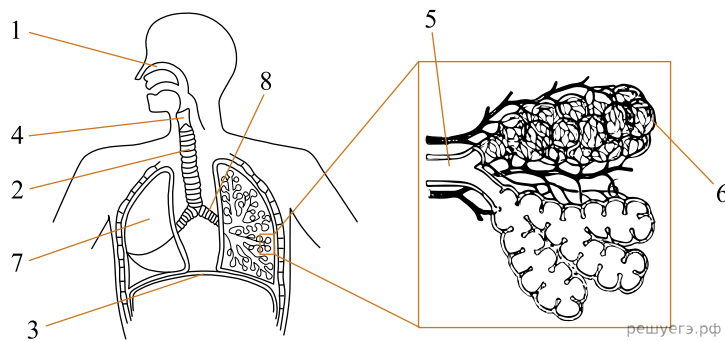


**Рассмотрите рисунок и выполните задание.**



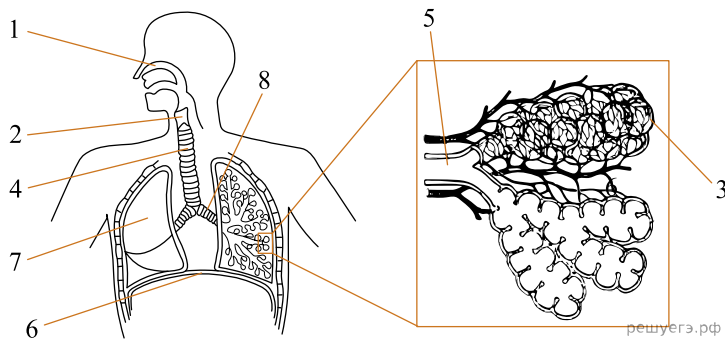
1. Какой цифрой на рисунке обозначена диафрагма?

**Рассмотрите рисунок и выполните задание.**



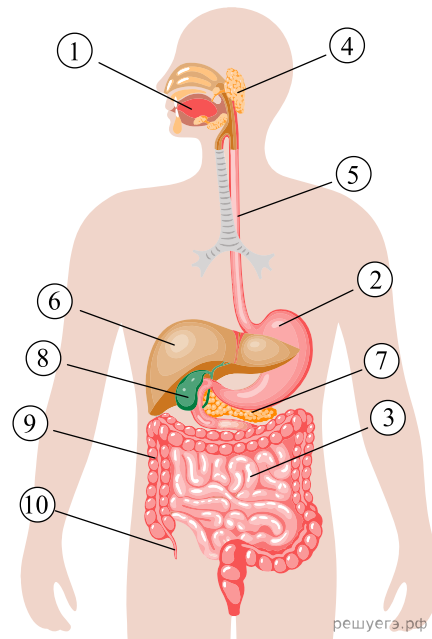
2. Какой цифрой на рисунке обозначен орган, имеющий доли?

**Рассмотрите рисунок и выполните задание.**



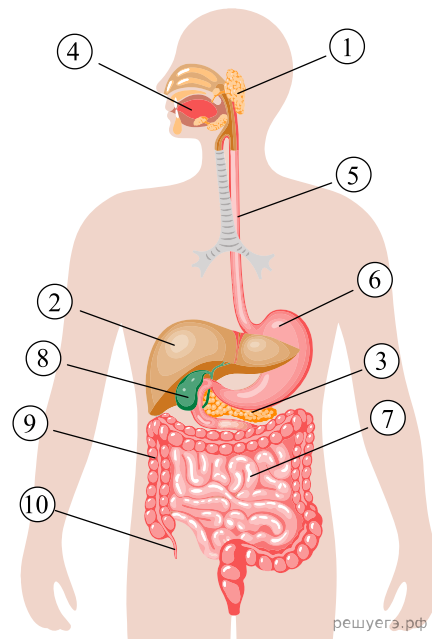
3. Какой цифрой на рисунке обозначена трахея?

**Рассмотрите рисунок и выполните задание.**



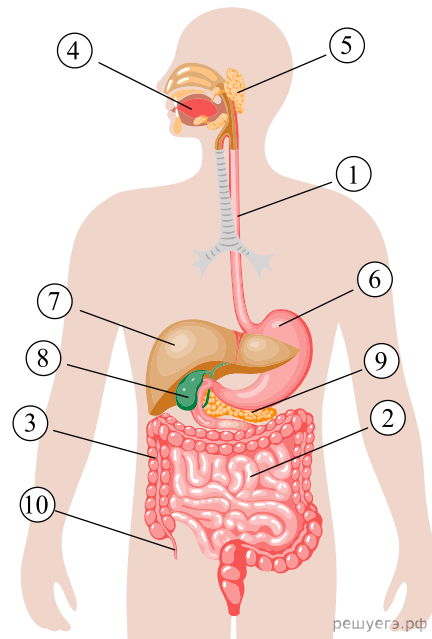
4. Какой цифрой на рисунке обозначена железа, выделяющая панкреатический сок?

**Рассмотрите рисунок и выполните задание.**



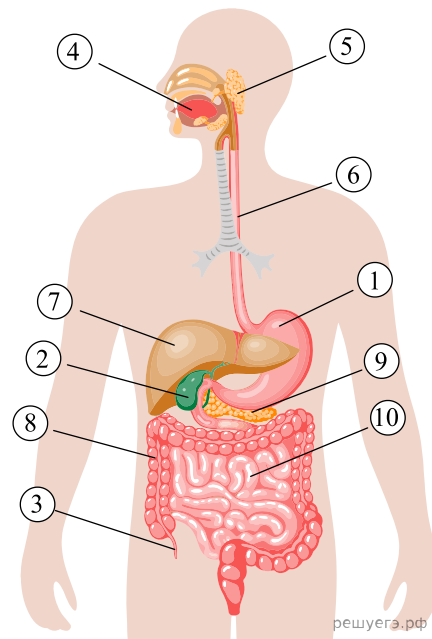
5. Какой цифрой на рисунке обозначен желчный пузырь?

**Рассмотрите рисунок и выполните задание.**



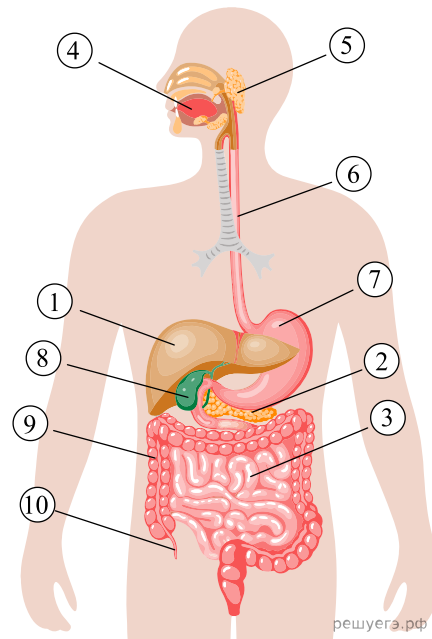
6. Какой цифрой на рисунке обозначен орган, где начинается расщепление белков?

**Рассмотрите рисунок и выполните задание.**



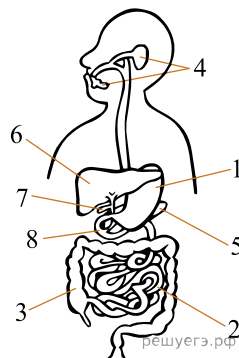
7. Какой цифрой на рисунке обозначен орган, где заканчиваются процессы расщепления пищи ферментами?

**Рассмотрите рисунок и выполните задание.**



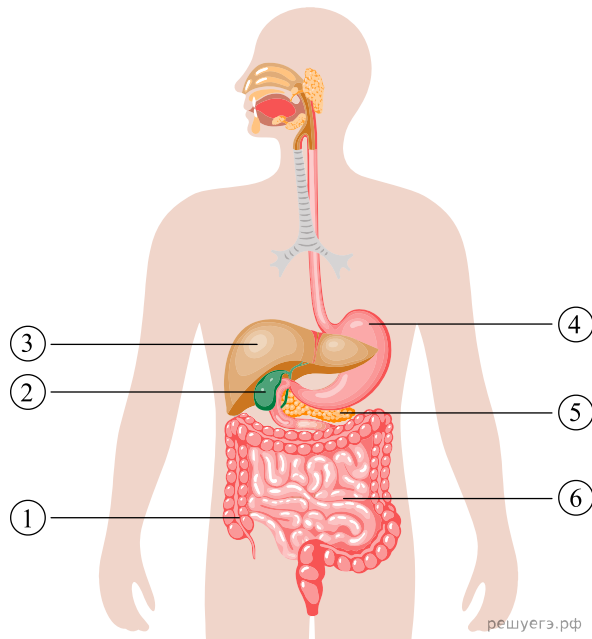
**8.** Какой цифрой на рисунке обозначен орган, находящийся и в грудной и брюшной полости?

**Рассмотрите рисунок и выполните задание.**



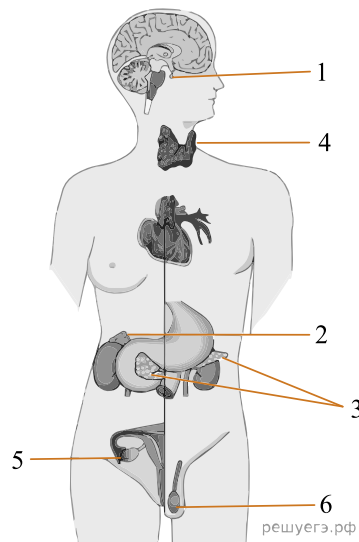
**9.** Какой цифрой на рисунке обозначена железа пищеварительной системы, не вырабатывающая пищеварительных ферментов?

**Рассмотрите рисунок и выполните задание.**



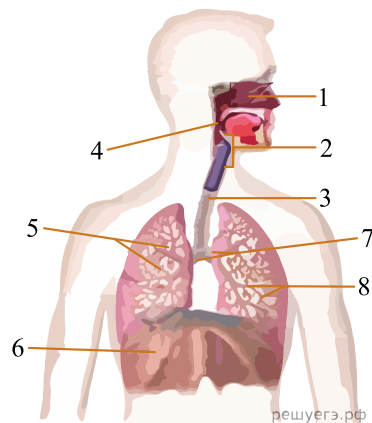
**10.** Каким номером на рисунке обозначен желчный пузырь?

**Рассмотрите рисунок и выполните задание.**



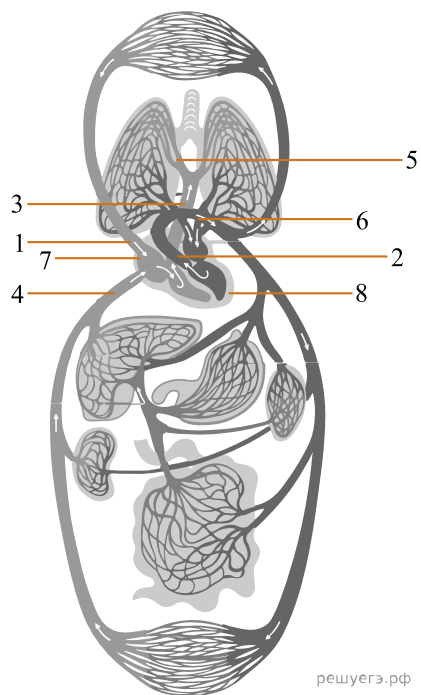
**11.** Какой цифрой на рисунке обозначена железа, накапливающая йод?

**Рассмотрите рисунок и выполните задание.**



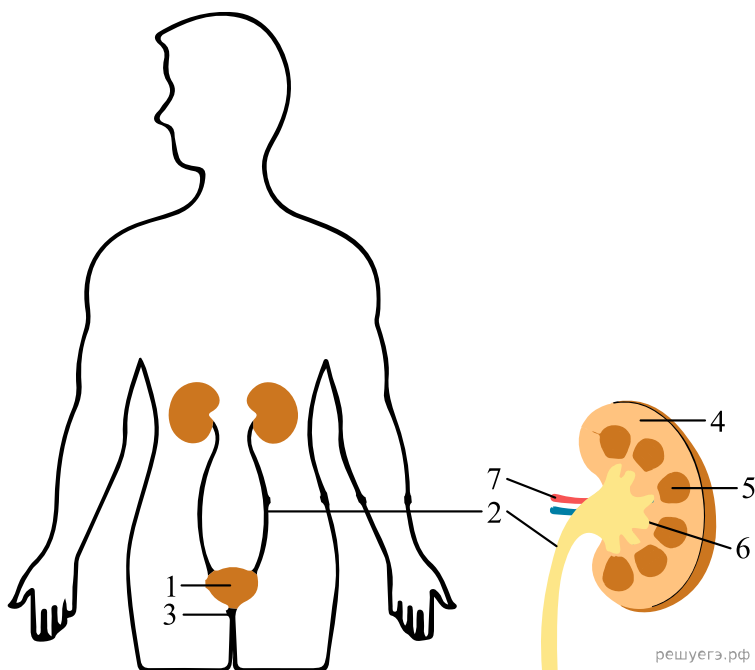
**12.** Какой цифрой на рисунке обозначена диафрагма?

Рассмотрите рисунок и выполните задание.



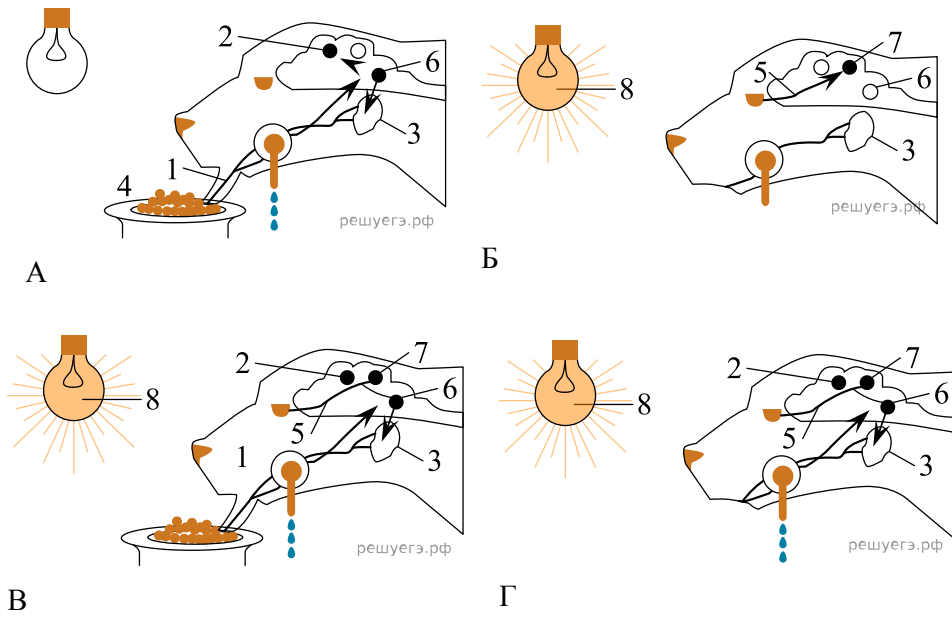
13. Каким номером на рисунке указана нижняя полая вена?

Рассмотрите рисунок и выполните задание.



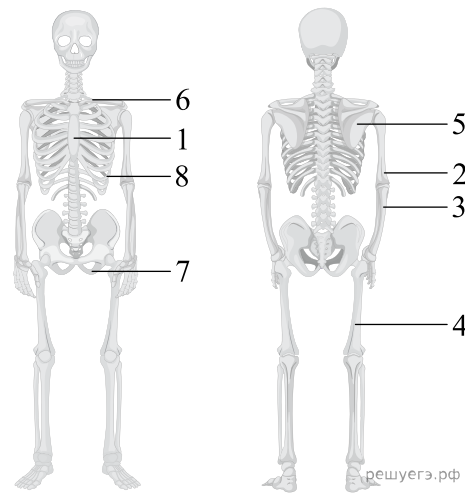
14. Каким номером на схеме обозначена почечная лоханка?

**Рассмотрите рисунок и выполните задание.**



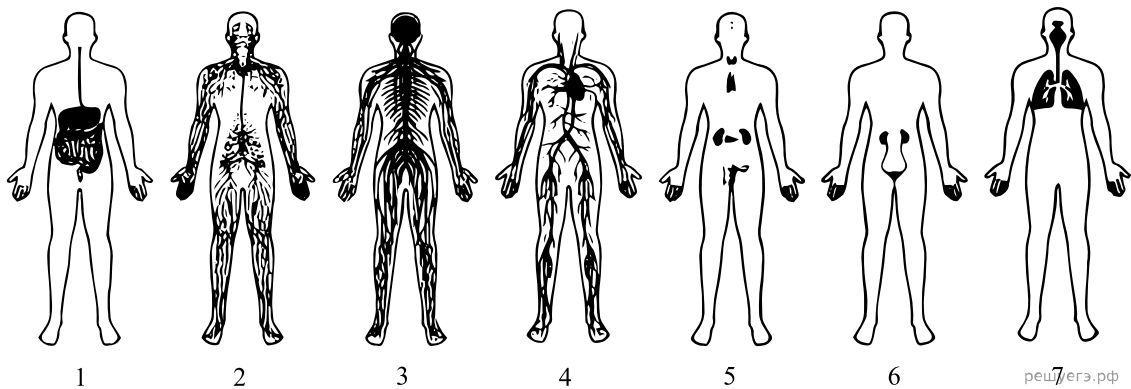
15. Каким номером на схеме обозначен объект, который является безусловным раздражителем?

**Рассмотрите рисунок и выполните задание.**



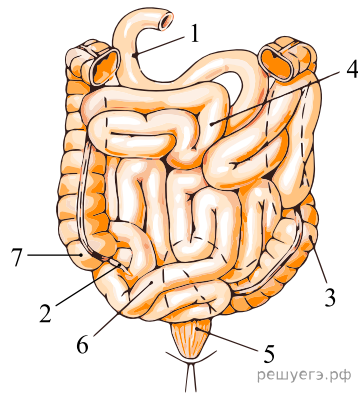
16. Каким номером на схеме обозначена кость, входящая в состав пояса нижних конечностей?

**Рассмотрите рисунок и выполните задание.**



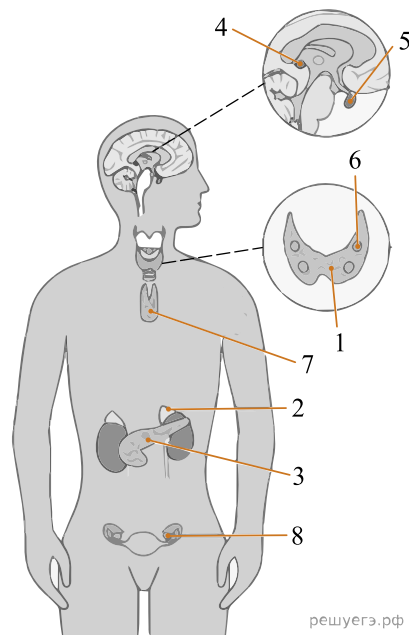
17. Каким номером на схеме обозначена система, представленная железами внутренней секреции?

**Рассмотрите рисунок и выполните задание.**



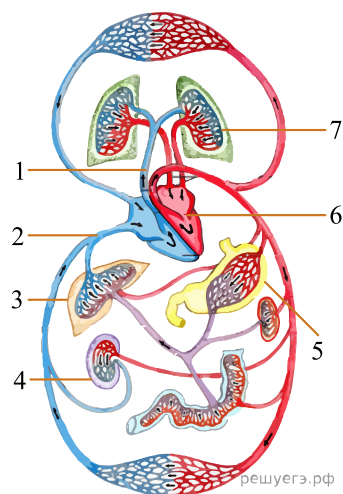
**18.** Под каким номером на рисунке кишечника человека обозначена прямая кишка?

**Рассмотрите рисунок и выполните задание.**



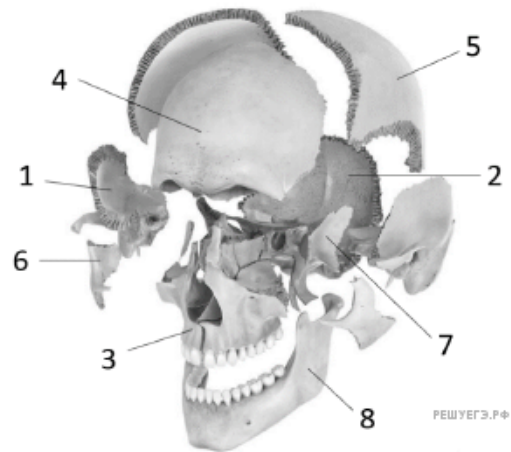
**19.** Каким номером на рисунке обозначена железа, вырабатывающая гормон роста?

**Рассмотрите рисунок и выполните задание.**



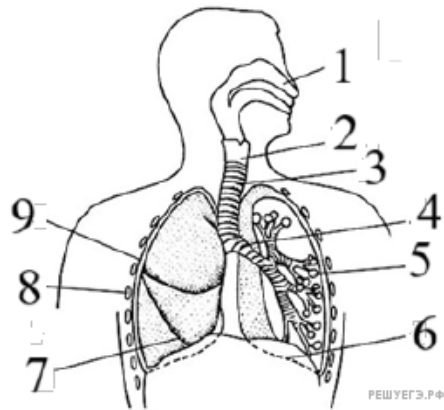
**20.** Каким номером на рисунке обозначена почка человека?

**Рассмотрите рисунок и выполните задание.**



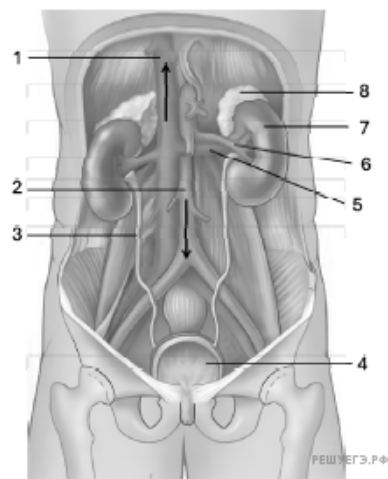
21. Каким номером на рисунке обозначена теменная кость?

**Рассмотрите рисунок и выполните задание.**



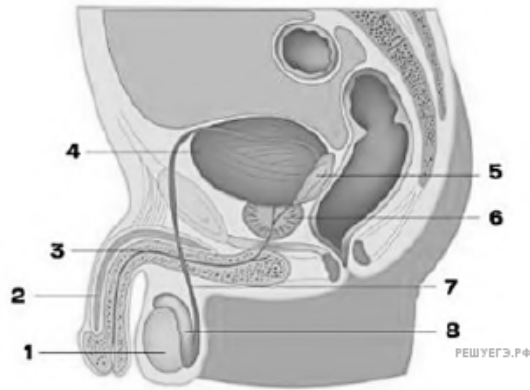
22. Каким номером на рисунке обозначено ребро?

**Рассмотрите рисунок и выполните задание.**



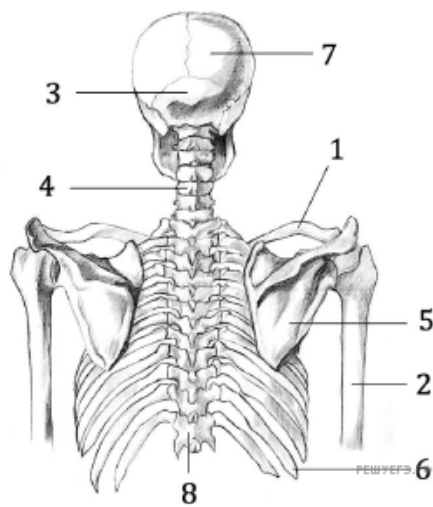
23. Каким номером на рисунке обозначен орган, осуществляющий функцию мочеобразования?

**Рассмотрите рисунок и выполните задание.**



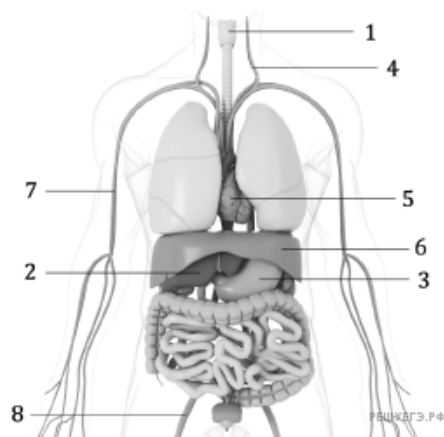
24. Каким номером на рисунке обозначен резервуар для сперматозоидов?

**Рассмотрите рисунок и выполните задание.**



25. Какой цифрой на рисунке обозначена теменная кость?

**Рассмотрите рисунок и выполните задание.**



26. Какой цифрой на рисунке обозначена подвздошная артерия?