




Рассмотрите рисунок и выполните задание.



1



2



3

Каким номером на рисунке обозначена ткань, формирующая миокард?