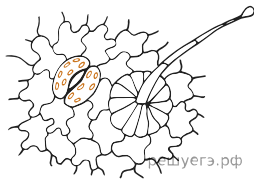
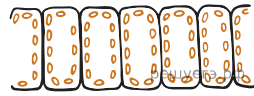


Рассмотрите рисунок и выполните задание.



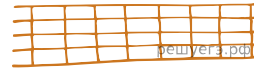
1)



2)



3)



4)



5)



6)

На рисунке под каким номером изображена растительная ткань, образующая корневые волоски?