


Какой из указанных на рисунке объектов относится к прокариотам?

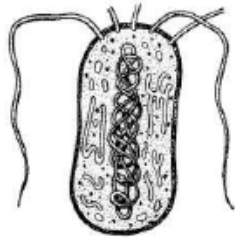
1)



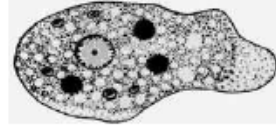
3)



2)



4)



РЕШУ ЕГЭ.РФ