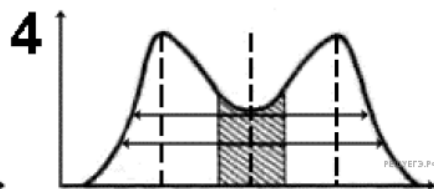
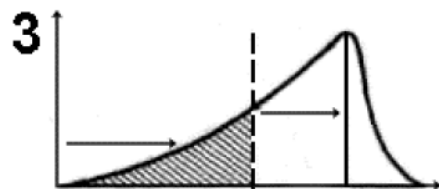
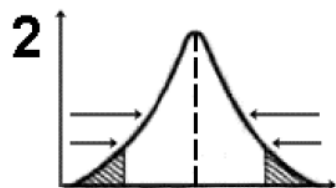
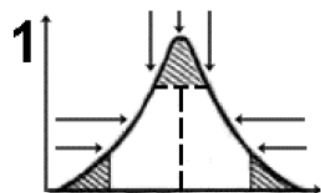


На каком из графиков представлено схематическое изображение сути стабилизирующего естественного отбора?



- 1) 1
- 2) 2
- 3) 3
- 4) 4